

11 Dans la salle de bain

- Après une douche, le miroir de la salle de bain est parfois recouvert de buée. Quel changement d'état explique sa présence ?
- Lorsqu'on souffle dessus de l'air chaud avec le sèche-cheveux, la buée disparaît. Que devient cette eau ? Expliquer.

12 Butane dans un briquet

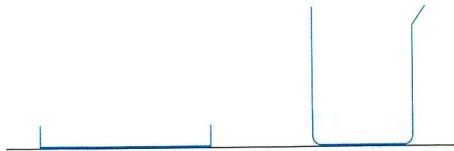
Ce briquet contient un corps liquide appelé butane. Lorsqu'on appuie sur le bouton sans tourner la mollette, du butane gazeux sort sans s'enflammer.



Quel changement d'état subit le butane ?

13 Le séchage du linge

- Quel changement d'état subit l'eau d'un linge lorsqu'on le fait sécher ?
- Un élève remplit un bécber et une boîte de Petri avec un même volume d'eau :

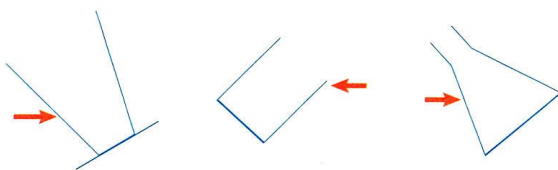


Après une journée laissés en plein soleil, la boîte de Petri est vide et le bécber contient encore de l'eau.

- Comparer les surfaces libres de l'eau dans chaque récipient.
- Dans quel récipient le changement d'état a-t-il été le plus efficace ?
- Pourquoi étend-on le linge pour le faire sécher ?

4 Liquide dans un récipient

Reproduire chacun des schémas suivants, puis représenter la surface d'un liquide dont le niveau est indiqué par une flèche à côté du récipient.

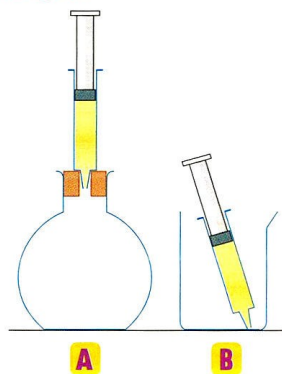


5 Comportement d'un gaz

Sur les deux schémas ci-contre, une seringue remplie d'un gaz coloré est représentée.

On pousse complètement le piston de chaque seringue.

- Comment va se comporter le gaz ?
- Reproduire les deux schémas et y représenter le résultat obtenu au bout de quelques minutes.



2 Propriétés des états physiques

Associer à chacun des états physiques (1, 2, 3) les propriétés (A, B, C) qui lui correspondent.

- | | |
|------------------|--|
| 1 Solide | A Le corps est insaisissable et se diffuse partout. |
| 2 Liquide | B Le corps possède une forme propre et peut être saisi. |
| 3 Gaz | C Le corps prend la forme du récipient et sa surface libre est horizontale. |

3 Des états physiques à reconnaître

Indiquer l'état physique du corps pour chacune des situations suivantes :



A La lave qui jaillit d'un volcan




B Un parfum qui se répand dans l'air



C L'eau qui compose un bonhomme de neige

10 Des changements d'état à reconnaître

Chacune des situations suivantes décrit un changement d'état. Lequel ?



A La chauffe d'un bijou pour couler le métal dans un moule

B De l'eau en train de bouillir



C La buée formée en soufflant sur une vitre

D Les chutes du Niagara en train de geler



16 Construction et exploitation d'un graphique

On refroidit un b cher rempli de cyclohexane (liquide incolore).   intervalles de temps r guli rs, on rel ve sa temp rature :

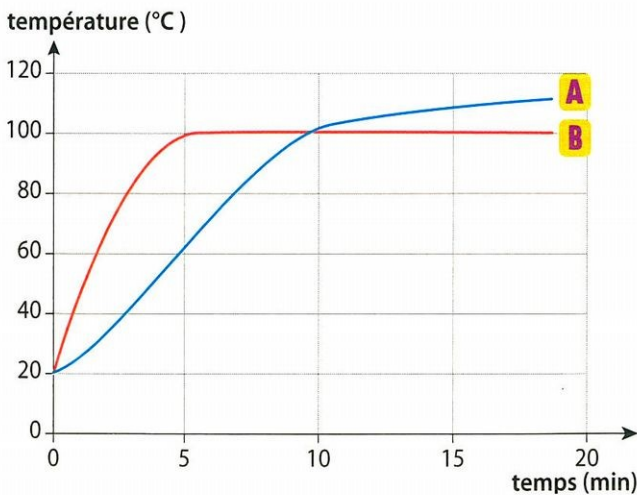
Temps (min)	0	1	2	3	4
Temp�rature (�C)	18	13,5	9,5	7	6

Temps (min)	5	6	7	8	9
Temp�rature (�C)	6	6	5	1,5	-3

- On souhaite tracer le graphique repr sentant les variations de la temp rature en fonction du temps.
 - Quelles sont les grandeurs   reporter sur l'axe des abscisses et sur l'axe des ordonn es ?
 - Tracer le graphique en respectant les  chelles suivantes :
1 cm pour 1 minute ;
1 cm pour 2 degr s Celsius.
 - Pour relier les points entre eux, faut-il utiliser la r gle ?

24 Eau pure ou eau sal e ?

Deux  l ves portent    bullition de l'eau pure et de l'eau sal e. Ils rel vent l' volution de la temp rature du liquide au cours du temps et en tracent un graphique   l'ordinateur.



- Proposer un protocole exp rimental pour r aliser cette exp rience.
- Entre les deux graphiques ci-dessus, indiquer celui qui correspond   l'eau pure en justifiant la r ponse.
-   quels instants d butent respectivement l' bullition de l'eau pure et celle de l'eau sal e ?
- En cuisine, pour cuire les p tes, on sale l'eau. Gagne-t-on du temps ? Argumenter.

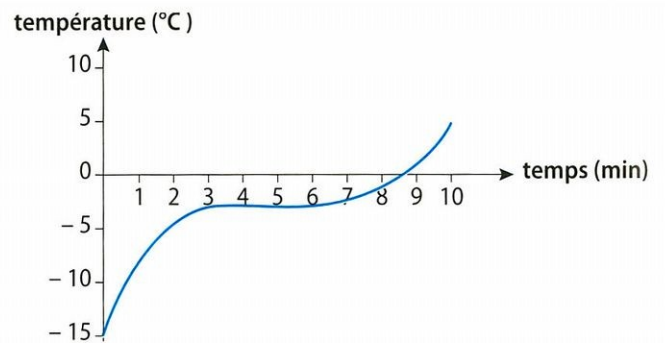
15 Quelques ordres de grandeurs

Associer   chacune des temp ratures (A, B, C, D) le changement d' tat (1, 2, 3, 4) qui lui correspond.

- | | |
|-----------------|---|
| A 100  C | 1 Fusion de la glace |
| B 170  C | 2 Solidification du plomb |
| C 0  C | 3 Vaporisation de l'eau |
| D 327  C | 4  bullition de l'huile de tournesol |

17 Interpr tation d'un graphique

Du cong lateur du laboratoire, on sort un solide inconnu.   mesure qu'il se r chauffe, on mesure sa temp rature. Ses variations de temp rature au cours du temps sont repr sent es par le graphique suivant :



- De quel changement d' tat s'agit-il ?
- Dans quel intervalle de temps se d roule le changement d' tat ?
- Le corps inconnu est-il un corps pur ? Justifier.
- Parmi les produits cit s ci-dessous, lequel est le solide inconnu ?

Corps pur	Temp�rature de fusion (�C)	Temp�rature de vaporisation (�C)
cyclohexane	6	81
acide st�arique	69	383
eau pure	0	100
huile d'olive	-3	300
acide adipique	152	338

18 La courbe correcte

Quelle(s) courbe(s) de temp rature montre(nt) le changement d' tat d'un corps pur ? Justifier.

