


10 Quantité de soluté


Classer les situations suivantes par ordre croissant de quantité de soluté dissout :



7 Des solides dans l'eau

Communiquer avec un langage scientifique

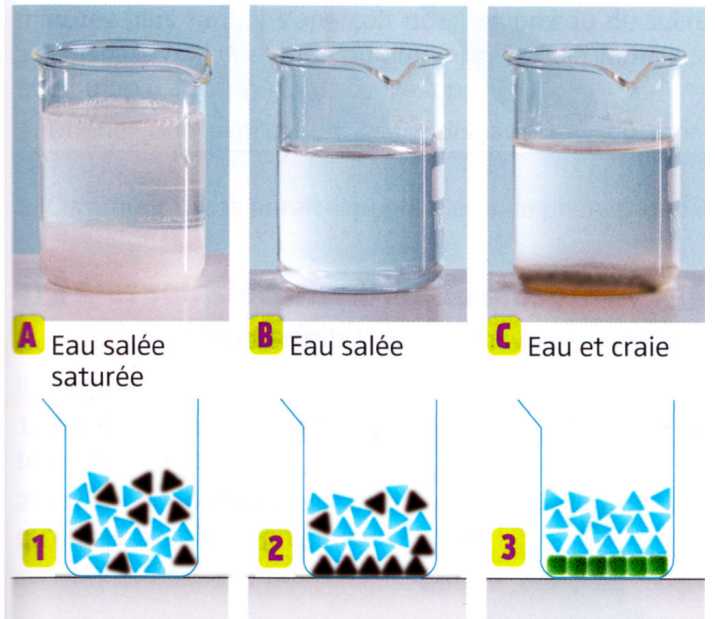
On a mélangé du poivre et de l'eau (bécher 1) et une préparation en poudre de boisson pour sportif avec de l'eau (bécher 2).



- Quel est le solvant utilisé dans cette expérience ?
- Quel mélange est hétérogène ?
- La préparation en poudre de boisson pour sportif est-elle soluble dans l'eau ? Justifie ta réponse.

17 À chacun sa représentation

Associer chacune des situations A, B, C à sa représentation microscopique (1, 2 ou 3).



9 Représentation des entités

Proposer une représentation des entités microscopiques pour les situations suivantes :

